




I'm not robot



Continue

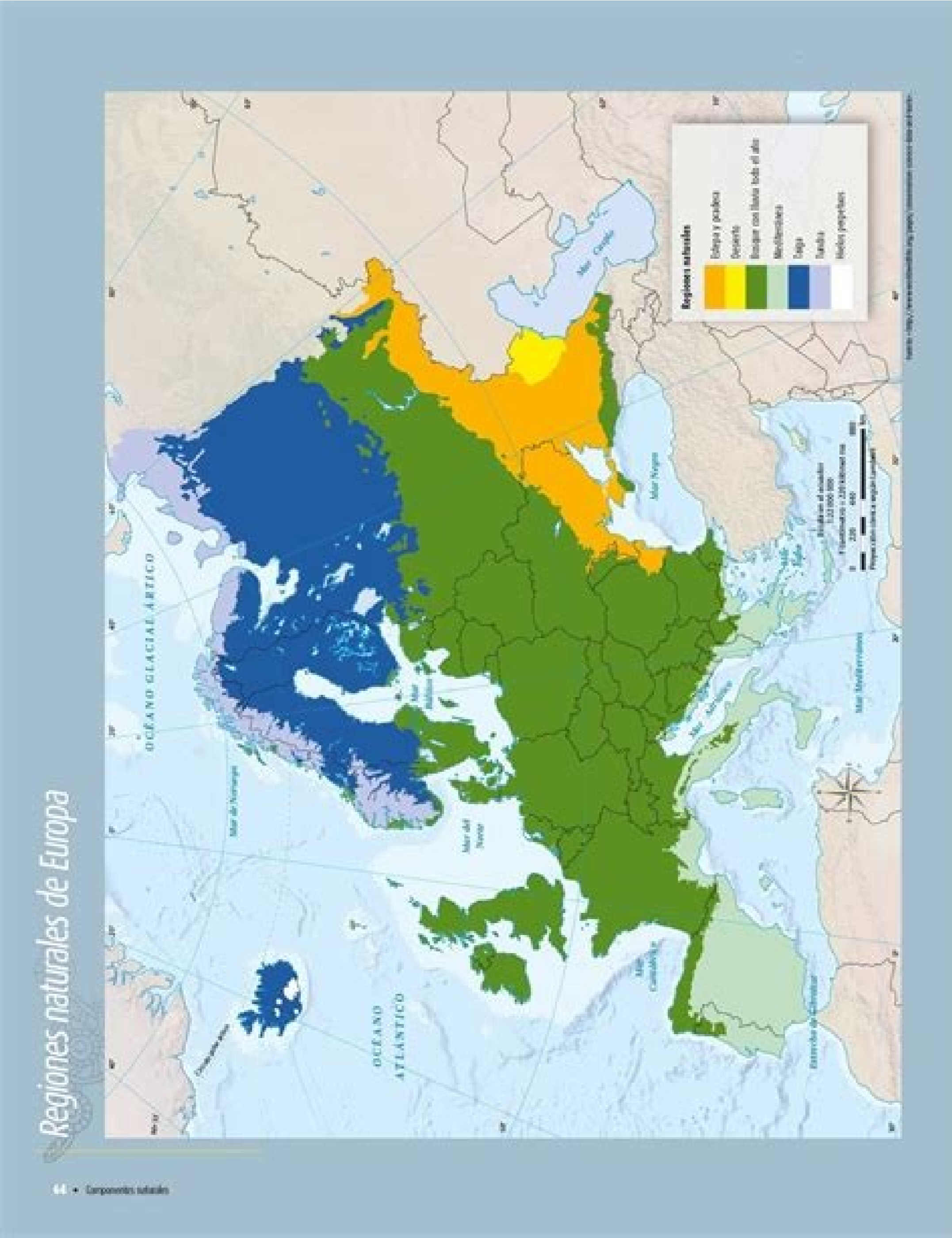
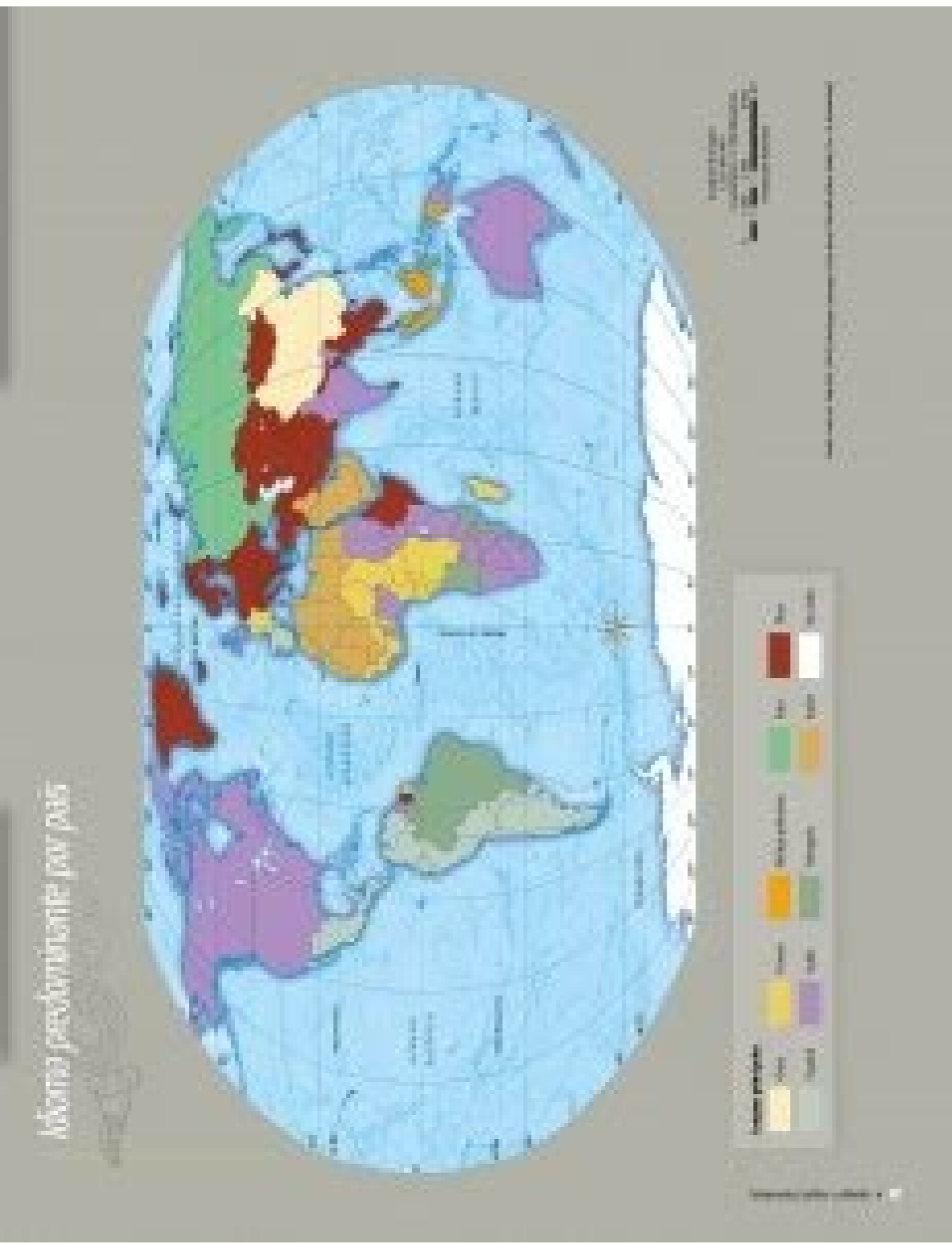
Actividad

En equipos, localicen en la página 49 de su Atlas de geografía del mundo los tres lugares que se mencionan en el esquema siguiente. Anoten las coordenadas de cada uno en el recuadro correspondiente. Comparen su trabajo, su precisión a la topografía y el tipo de relieve. Determinen entre ustedes el factor del clima que influye más en cada uno de los lugares y completen los primeros cuadros en blanco del esquema. Conservern los esquemas y discutan sus diferencias.

Compara su trabajo, su precisión a la topografía y el tipo de relieve. Determinen entre ustedes el factor del clima que influye más en cada uno de los lugares y completen los primeros cuadros en blanco del esquema. Conservern los esquemas y discutan sus diferencias.

```

    Factores del clima
    /    |    \
Montañoso alto  Húmedo cercano al mar  Cálido húmedo cercano al mar
    |          |           |
Cordillera de los Andes  Perito de Caros  Guyanas
    |          |           |
Clima Templado  Clima Templado  Clima Tropical
    
```



En parejas, observen las tablas donde se muestran los ríos más largos, y los lagos y mares más grandes del mundo. Anoten el continente al que pertenecen los países que atraviesan desde su nacimiento y el océano al que desembocan.

Río	Continente	País	Océano al que desemboca	Ciudades
Amazona (6.991 km)				
Nilo (6.853 km)				
Yangtze (6.380 km)				
Mississippi - Misouri - Jefferson (6.270 km)				
Madrá - Manarat (5.988 km)				
Amurlo Huang He (5.464 km)				
Ob (5.400 km)				
Amur (4.410 km)				
Yangtze (3.965 km) (4.072 km)				
Urals (4.262 km)				

también deberían anotar los principales cuencas que se localizan cerca de ellas. Consulten su Atlas de Geografía Universal de los págs 34 a 39 y la 62.

